

## XEOGRAFÍA

VALORACIÓN: **A primeira pregunta ten unha puntuación máxima de 2 puntos:** requírese unha **breve** definición en termos xeográficos. **A segunda pregunta ten unha puntuación máxima de 2 puntos:** solicítase **unicamente** citar os elementos. **A terceira pregunta ten unha puntuación máxima de 3 puntos:** valorarase a organización e a exposición de contidos. **A cuarta pregunta ten unha puntuación máxima de 3 puntos:** pídesa a correcta interpretación e explicación do documento, analizando as causas e consecuencias dos feitos expostos.

### OPCIÓN 1

1.1.- Defina brevemente: MUNICIPIO, ISOBARA, RÉXIME FLUVIAL, REGULARIZACIÓN DE INMIGRANTES, GARRIGA.

1.2.- Na Figura A-1 aparecen representados os principais ríos españois. Cite vostede o nome dos sinalados cun número.

1.3.- Desenvolva a cuestión: **As características das migracións interiores españolas e as súas consecuencias espaciais.** *Orientacións para o desenvolvemento: definición de migración interior; secuencia temporal do seu desenrolo en España, áreas emisoras e áreas receptoras, consecuencias espaciais, etc.*

1.4.- Comente vostede a Figura B-1. *Orientacións para o comentario: tipoloxía da imaxe (sistema de representación, tipo de información, escala), caracteres xerais do feito representado, relación con diversos factores xeográficos, etc.*

### OPCIÓN 2

2.1.- Defina brevemente: BOSQUE CADUCIFOLIO, DELTA, BARBEITO, AUGAS XURISDICCIONAIS, RECICLAXE.

2.2.- Na Figura A-2 aparece a trama das Comunidades Autónomas españolas. Cite vostede o nome e a capital das sinaladas cun número.

2.3.- Desenvolva a cuestión: **Trazos xerais dos rebordos montañosos da Meseta.** *Orientacións para o desenvolvemento: enumeración dos rebordos montañosos da Meseta, caracteres estruturais, formas de relevo, trazos comúns e diferenzas, etc.*

2.4.- Comente vostede a Figura B-2. *Orientación para o comentario: tipoloxía da imaxe (sistema de representación, tipo de información), caracteres xerais do feito representado, causas e consecuencias da evolución reflectida, relación con outros feitos demográficos, as consecuencias espaciais diferenciais do proceso, etc.*

XEOGRAFÍA

OPCIÓN 1

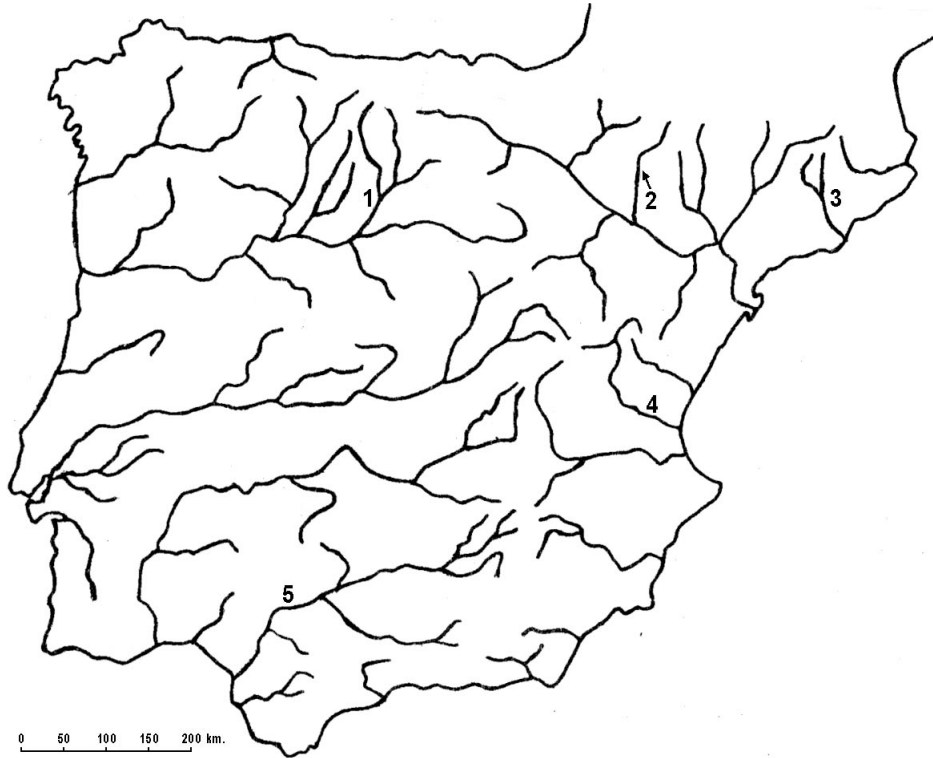
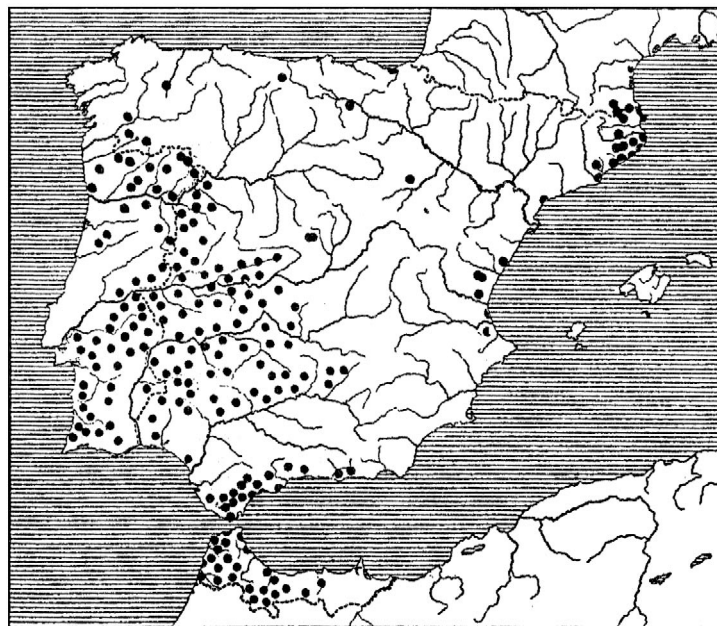


FIGURA A-1



Área da sobreira (*Quercus suber*) na Península Ibérica (Font Quer, P., 1956).

FIGURA B-1

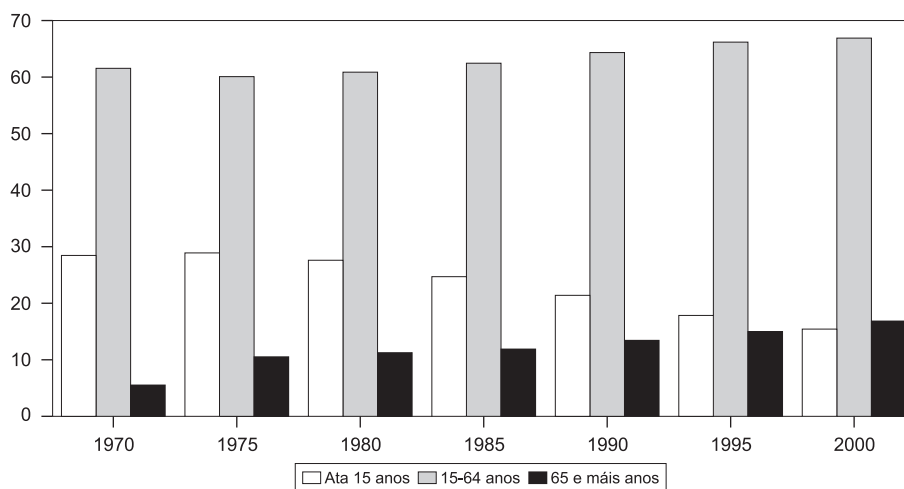
**XEOGRAFÍA**

**OPCIÓN 2**



FIGURA A-2

**EVOLUCIÓN DO REPARTO PORCENTUAL DOS GRUPOS DE IDADE EN ESPAÑA**



Fonte: Banco BBVA

FIGURA B-2

## **XEOGRAFÍA**

*VALORACIÓN: **A primeira pregunta ten unha puntuación máxima de 2 puntos:** requírese unha **breve** definición en termos xeográficos. **A segunda pregunta ten unha puntuación máxima de 2 puntos:** solicítase **unicamente** cita-los elementos. **A terceira pregunta ten unha puntuación máxima de 3 puntos:** valorarase a organización e a exposición de contidos. **A cuarta pregunta ten unha puntuación máxima de 3 puntos:** pídesse a correcta interpretación e explicación do documento, analizando as causas e consecuencias dos feitos expostos.*

### **OPCIÓN 1**

1.1.- Defina brevemente: FOSA TECTÓNICA, HÁBITAT CONCENTRADO, DENSIDADE DE POBOACIÓN, AGROINDUSTRIA, ALUVIÓN.

1.2.- Na Figura A-1 aparece un mapa con cinco accidentes xeográficos. Cite vostede o nome correspondente a cada número.

1.3.- Desenvolva a cuestión: **As paisaxes agrarias en España. Características e contrastes.** *Orientacións para o desenvolvemento: variedade de paisaxes agrarias en función da variedade ambiental, tipoloxía das paisaxes agrarias, relación coa estrutura agraria, diversidade de orientacións produtivas, etc.*

1.4.- Comente vostede a Figura B-1. *Orientacións para o comentario: tipoloxía da imaxe (sistema de representación, tipo de información), características da distribución dos feitos representados, localización espacial e nas variedades climáticas españolas, consecuencias na paisaxe, etc.*

### **OPCIÓN 2**

2.1.- Defina brevemente: DÉFICIT HÍDRICO, HÁBITAT DISPERSO, ENSANCHE, BORRASCA, TORRENTE.

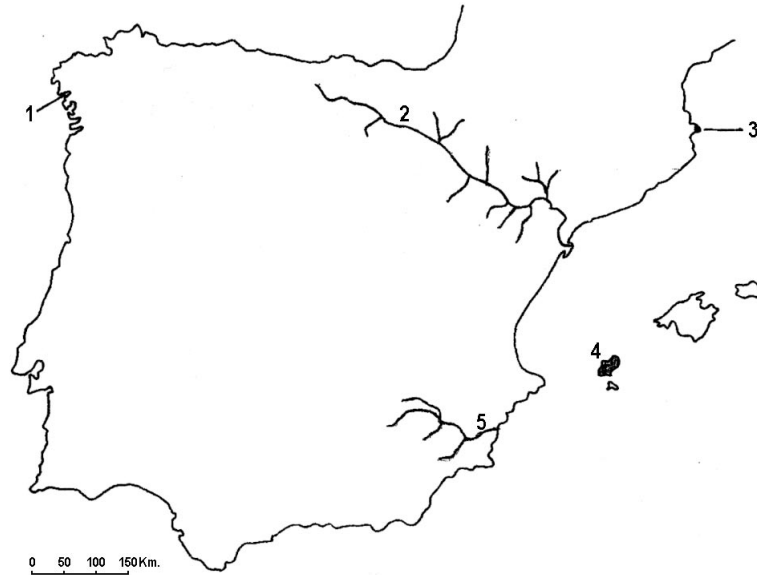
2.2.- Na Figura A-2 aparece a trama das provincias españolas. Cite vostede o nome das sinaladas cun número.

2.3.- Desenvolva a cuestión: **O reparto dos elementos climáticos en España e as súas consecuencias.** *Orientacións para o desenvolvemento: definición de elemento climático, a distribución espacial dos elementos e as súas causas, relación cos factores atmosféricos e xeográficos, as consecuencias nas variedades climáticas, etc.*

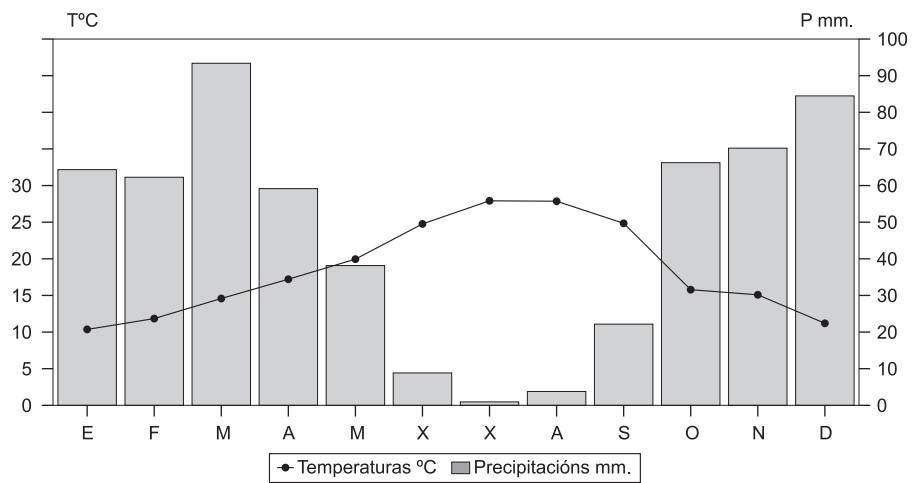
2.4.- Comente vostede a Figura B-2. *Orientacións para o comentario: tipoloxía da imaxe (sistema de representación, tipo de información), características da evolución dos feitos representados, causas e consecuencias na distribución espacial da poboación, relación coa dinámica demográfica e económica, etc.*

**XEOGRAFÍA**

**OPCIÓN 1**



**FIGURA A-1**



Temperatura media anual: 18,8°. Precipitacións anuais: 572 mm. Amplitude térmica anual: 17,5°.

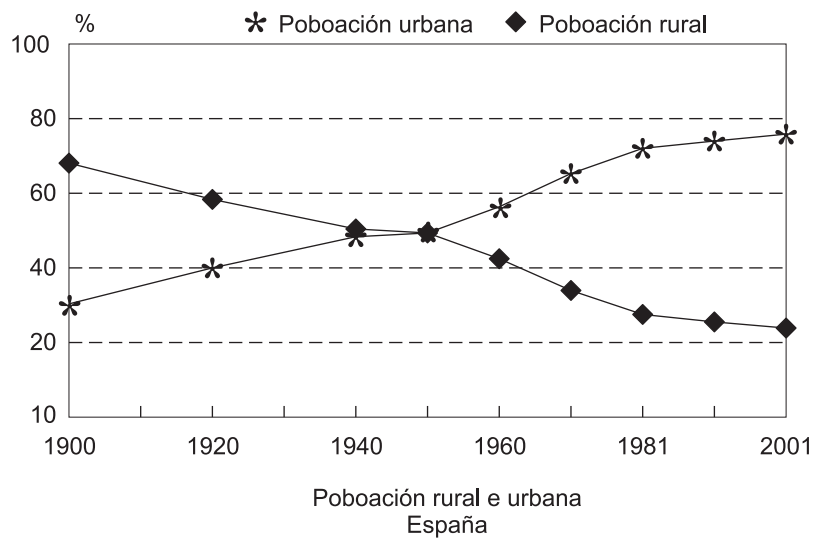
**FIGURA B-1**

**XEOGRAFÍA**

**OPCIÓN 2**



**FIGURA A-2**



**FIGURA B-2**