

XEOGRAFÍA

VALORACIÓN: A primeira pregunta ten unha puntuación máxima de 2 puntos: requírese unha breve definición en termos xeográficos. A segunda pregunta ten unha puntuación máxima de 2 puntos: solicítase unicamente cita-los elementos. A terceira pregunta ten unha puntuación máxima de 3 puntos: valorarase a organización e a exposición de contidos. A cuarta pregunta ten unha puntuación máxima de 3 puntos: pídesse a correcta interpretación e explicación do documento, analizando as causas e consecuencias dos feitos expostos.

OPCIÓN 1.

1.1.- Defina brevemente: BIOSFERA, ACUICULTURA, RAMBLA, RESIDENCIA SECUNDARIA, AGROINDUSTRIA.

1.2.- Na Figura A-1 aparece a trama das provincias españolas. Cite vostede o nome das sinaladas cun número.

1.3.- Desenvolva a cuestión: **Caracteres rexionais da industria española.** *Orientacións para o desenvolvemento: breve referencia dos caracteres do proceso de industrialización en España, as disparidades rexionais, os mecanismos e medios correctores, causas e consecuencias espaciais, etc.*

1.4.- Comente vostede a Figura B-1. *Orientacións para o comentario: tipoloxía da imaxe (sistema de representación, tipo de información, escala), caracteres xerais do feito representado, relación con diversos factores xeográficos que expliquen a distribución, etc.*

OPCIÓN 2

2.1.- Defina brevemente: EXPLOTACIÓN EXTENSIVA, ROCHA SEDIMENTARIA, INFLACIÓN, PRESIÓN ATMOSFÉRICA, RECONVERSIÓN INDUSTRIAL.

2.2.- Na Figura A-2 aparecen representados os principais ríos españois. Cite vostede o nome dos sinalados cun número.

2.3.- Desenvolva a cuestión: **Caracteres xerais e evolución dos movementos naturais da poboación española.** *Orientacións para o desenvolvemento: definición de movemento natural, caracteres da natalidade, mortalidade e crecemento natural, evolución durante o século XX, tendencias recentes, etc.*

2.4.- Comente vostede a Figura B-2. *Orientacións para o comentario: tipoloxía da imaxe (sistema de representación, tipo de información), caracteres do fenómeno representado, causas e consecuencias das pautas de distribución, relación con outras variables climáticas, etc.*

XEOGRAFÍA

OPCIÓN 1

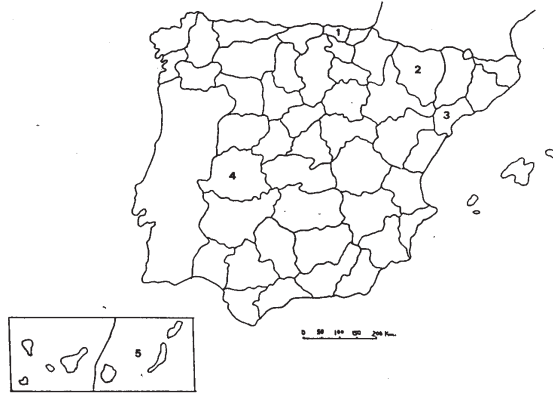


FIGURA A-1

FIGURA A-1



Mapa de dispersión del haya (*Fagus sylvatica*) en la Península Ibérica (Font Quer, P., 1954).

FIGURA B-1

XEOGRAFÍA

OPCIÓN 2

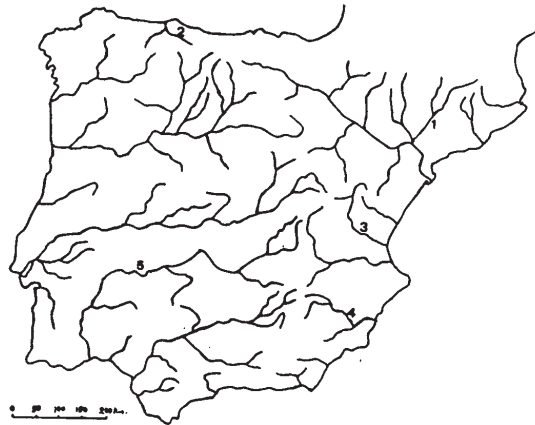
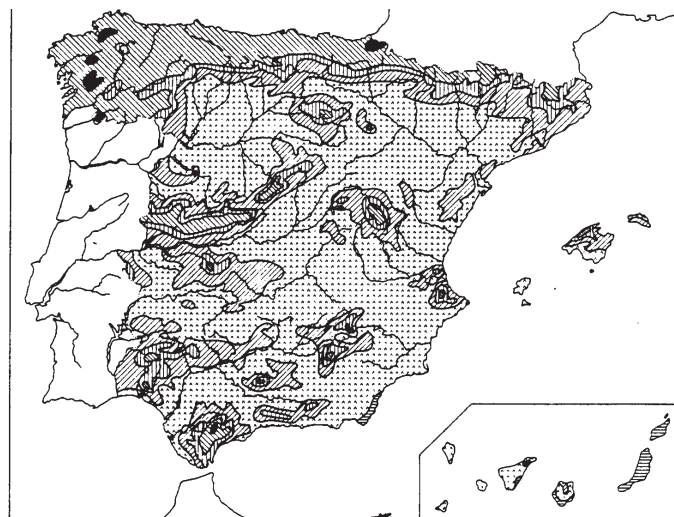







FIGURA A-2



- | | |
|--|--|
|  menos de 200 mm. |  de 800 a 1000 mm. |
|  de 200 a 600 mm. |  de 1000 a 2000 mm. |
|  de 600 a 800 mm. |  máis de 2.000 mm. |

Precipitaciones medias anuales.

FIGURA B-2

XEOGRAFÍA

VALORACIÓN: A primeira pregunta ten unha puntuación máxima de 2 puntos: requírese unha breve definición en termos xeográficos. A segunda pregunta ten unha puntuación máxima de 2 puntos: solicítase unicamente cita-los elementos. A terceira pregunta ten unha puntuación máxima de 3 puntos: valorarase a organización e a exposición de contidos. A cuarta pregunta ten unha puntuación máxima de 3 puntos: pídesse a correcta interpretación e explicación do documento, analizando as causas e consecuencias dos feitos expostos.

OPCIÓN 1

1.1.- Defina brevemente: PLANO RADIOCONCÉNTRICO, ROCHA METAMÓRFICA, PRODUCTO INTERIOR BRUTO, CAMPOS CERRADOS, MOVEMENTO PENDULAR.

1.2.- Na Figura A-1 aparece representada a produción cárnico-láctea sobre a agraria total. Cite vostede **cinco** provincias donde o valor sexa inferior ó 15%.

1.3.- Desenvolva a cuestión: **Caracteres xerais da rede urbana española.** *Orientacións para o desenvolvemento: definición de rede e xerarquía urbana, a rede urbana española e os diversos niveis xerárquicos, o reparto espacial das cidades, as áreas funcionais, relación con outros aspectos xeográficos, etc.*

1.4.- Comente vostede a Figura B-1. *Orientacións para o comentario: tipoloxía da imaxe (sistema de representación, tipo de información), características da distribución dos feitos representados, ubicación espacial e nas variedades climáticas españolas, consecuencias na paisaxe, etc.*

OPCIÓN 2

2.1.- Defina brevemente: PESCA DE BAIXURA, TASA DE MORTALIDADE INFANTIL, SOTOBOSQUE, ENSANCHE, ORBALLO.

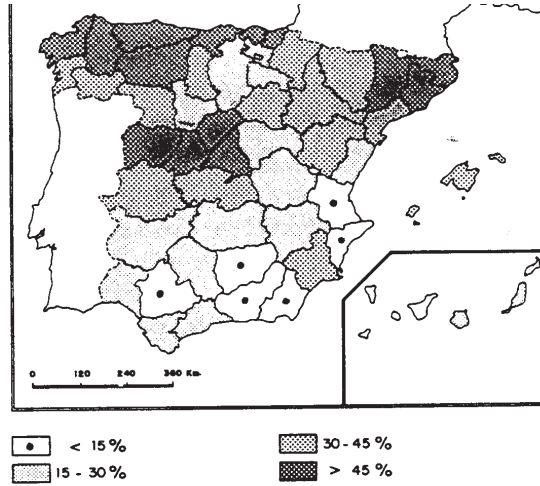
2.2.- Na Figura A-2 aparece a trama das provincias españolas. Cite vostede o nome das sinaladas cun número.

2.3.- Desenvolva a cuestión: **Caracteres termopluriométricos e paisaxes bioclimáticas na España Húmida.** *Orientacións para o desenvolvemento: criterios de delimitación da España Húmida, o reparto das temperaturas e as precipitacións, as condicións estacionais, os rasgos xerais das paisaxes vexetais e os sus compoñentes, etc.*

2.4.- Comente vostede a Figura B-2. *Orientacións para o comentario: tipoloxía da imaxe (sistema de representación, tipo de información), causas e consecuencias da evolución do fenómeno que se representa, caracteres das diversas variables, etc.*

XEOGRAFÍA

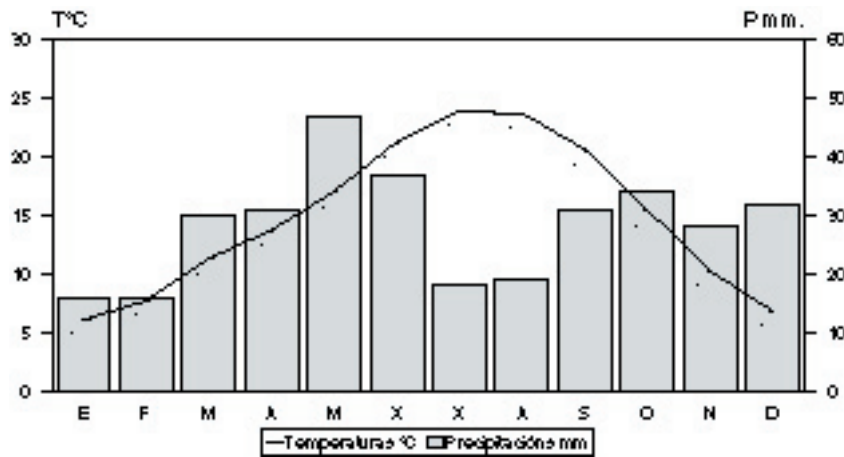
OPCIÓN 1



Producción cárnico-láctea sobre la agraria total.

FIG. A-1

FIGURA A-1



Temperatura media anual: 14,8°. Precipitacións anuais: 338 mm. Amplitud térmica: 17,8°

FIGURA B-1

XEOGRAFÍA

OPCIÓN 2

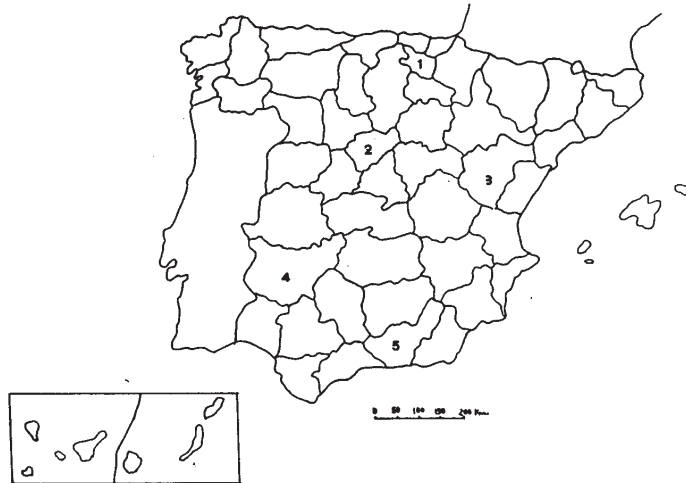
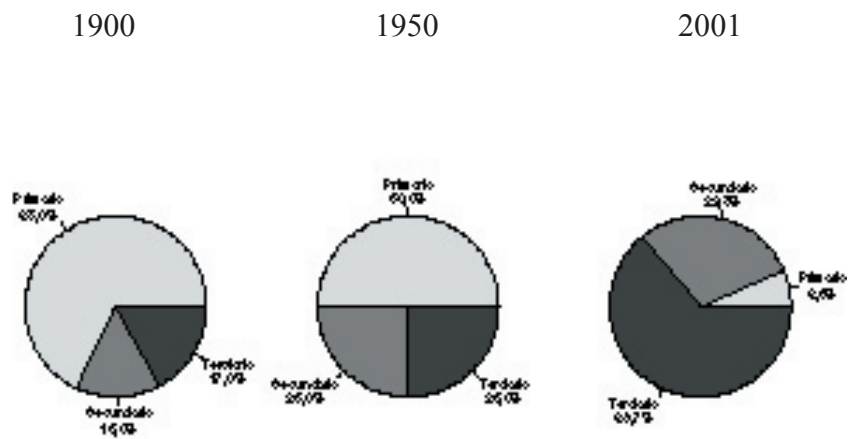


FIGURA A-2

REPARTO DE LA POBLACIÓN ACTIVA ESPAÑOLA



Fuente: INE.

FIGURA B-2