

XEOGRAFÍA

VALORACIÓN: A primeira pregunta ten unha puntuación máxima de 2 puntos: requírese unha breve definición en termos xeográficos. A segunda pregunta ten unha puntuación máxima de 2 puntos: solicítase unicamente cita-los elementos. A terceira pregunta ten unha puntuación máxima de 3 puntos: valorarase a organización e a exposición de contidos. A cuarta pregunta ten unha puntuación máxima de 3 puntos: pídese a correcta interpretación e explicación do documento, analisando as causas e consecuencias dos feitos expostos.

OPCIÓN 1.

1.1.- Defina brevemente: FUNCIÓN URBANA, ANTICICLÓN, PARCELA, PADRÓN MUNICIPAL, RESIDUOS SÓLIDOS URBANOS.

1.2.- Na Figura A-1 aparecen os principais ríos españois. Cite vostede os sinalados cun número.

1.3.- Desenvolva a cuestión: **Características xerais do transporte terrestre en España.** Orientacións para o desenvolvemento: definición e tipos de transporte terrestre, condicionantes e problemas para o transporte terrestre en España, o transporte por estrada (redes, autovías, autoestradas), o transporte por ferrocarril (estrutura da rede e características xerais), etc.

1.4.- Comente vostede a Figura B-1. Orientacións para o comentario: tipoloxía da imaxe (sistema de representación, tipo de información), situación que representa (estación do ano, características), inserción no marco atmosférico global, causas e consecuencias da disposición representada, etc.

OPCIÓN 2.

2.1.- Defina brevemente: ESTABULACIÓN GANDEIRA, ALBUFEIRA, DEHESA, PLAN XERAL DE ORDENACIÓN URBANA, COTA LÁCTEA.

2.2.- Na Figura A-2 aparece representada a taxa de mortalidade infantil por provincias no período 1989-1991. Cite vostede **cinco** nas que o valor sexa entre o 3,74 e o 6,45 por mil.

2.3.- Desenvolva a cuestión: **Caracteres termopluiométricos do clima da Meseta.** Orientacións para o desenvolvemento: os factores do clima no interior peninsular (dinámica atmosférica, factores xeográficos), o reparto das temperaturas, o reparto das precipitacións, variedades dentro da Meseta, consecuencias na agricultura, etc.

2.4.- Comente vostede a Figura B-2. Orientacións para o comentario: tipoloxía da imaxe (sistema de representación, tipo de información, escala), feito que representa, tipo de trama, secuencias de evolución histórica do feito representado, etc.

XEOGRAFÍA

OPCIÓN A

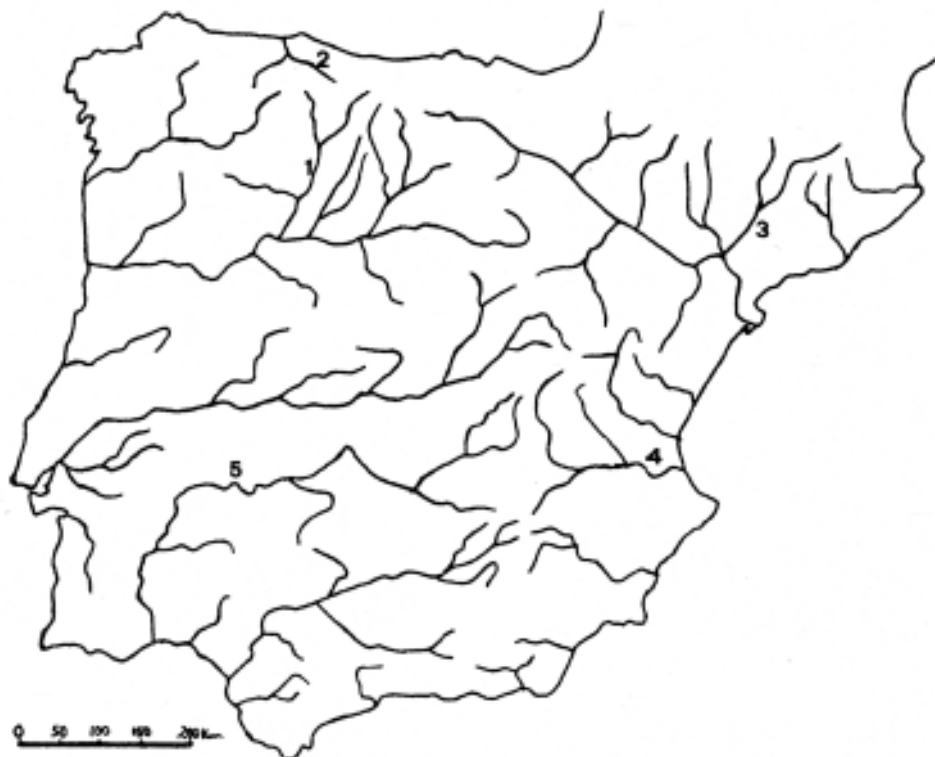
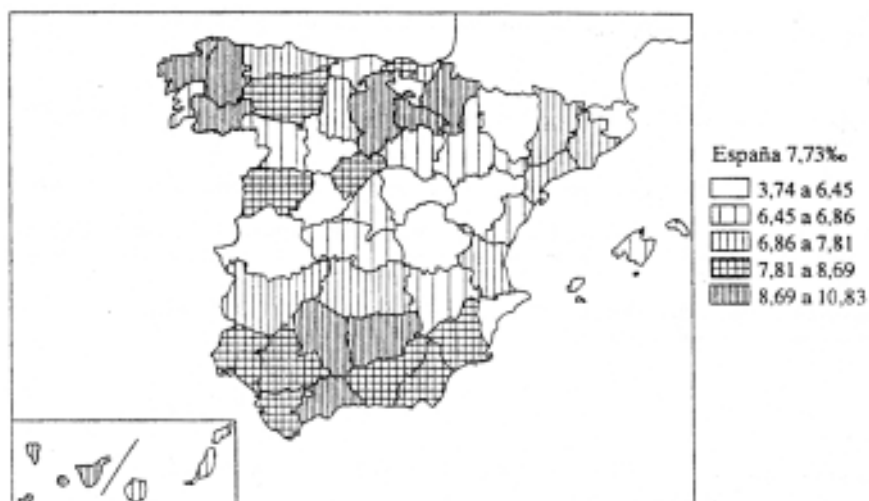


Figura A-1



Tasa de mortalidad infantil (1989-1991).

Figura A-2

XEOGRAFÍA

OPCIÓN B

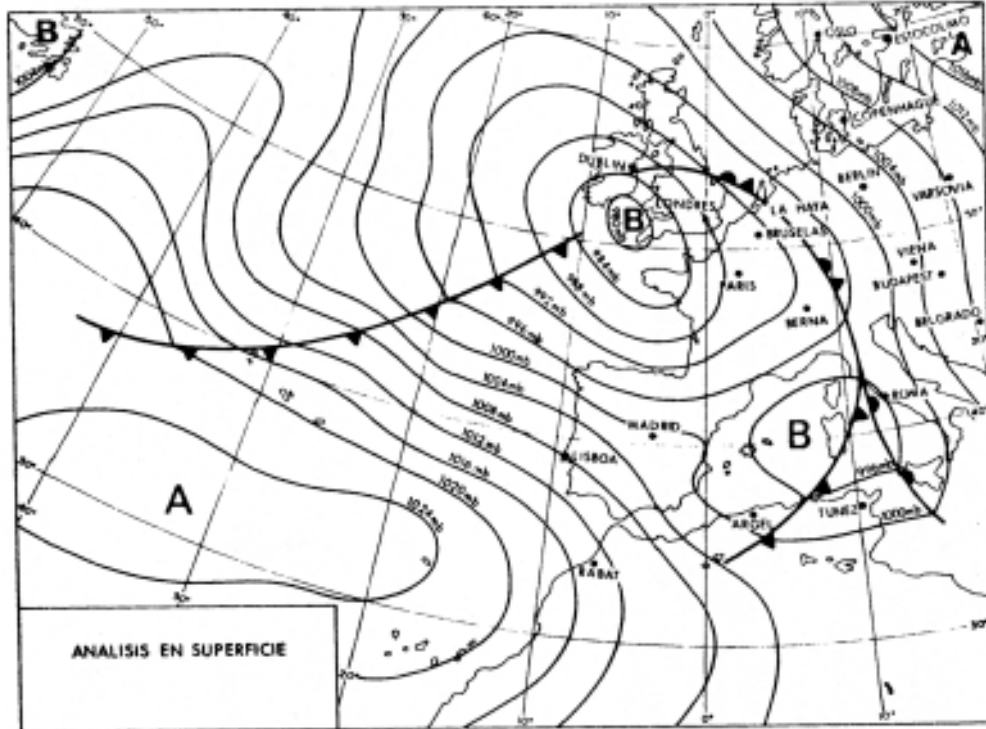


Figura B-1



Plano actual de la ciudad de Pamplona

Figura B-2

XEOGRAFÍA

VALORACIÓN: A primeira pregunta ten unha puntuación máxima de 2 puntos: requírese unha breve definición en termos xeográficos. A segunda pregunta ten unha puntuación máxima de 2 puntos: solicítase unicamente cita-los elementos. A terceira pregunta ten unha puntuación máxima de 3 puntos: valorarásese a organización e a exposición de contidos. A cuarta pregunta ten unha puntuación máxima de 3 puntos: pídesese a correcta interpretación e explicación do documento, analizando as causas e consecuencias dos feitos expostos.

OPCIÓN 1.

1.1.- Defina brevemente: SALDO MIGRATORIO, POLÍTICA AGRARIA COMUNITARIA (P.A.C.), FALLA, GOTA FRÍA, MESETA.

1.2.- Na Figura A-1 aparece a trama das provincias españolas. Cite vostede as sinaladas cun número.

1.3.- Desenvolva a cuestión: **rasgos xerais das actividades pesqueiras en España**. Orientacións para o desenvolvemento: a tradición pesqueira de España, os tipos de pesca practicados, a pesca española no contexto mundial, rexións pesqueiras, evolución e problemática actual, etc.

1.4.- Comente vostede a Figura B-1. Orientacións para o comentario: tipoloxía da imaxe (sistema de representación, tipo de información), modelos que representan os dous gráficos, características de ambos, relación coa diversidade natural de España, relación cos grandes tipos de reximes fluviais españois, etc.

OPCIÓN 2.

2.1.- Defina brevemente: ARANCEL, GLACIACIÓN, POBOACIÓN INACTIVA, ESPECIE HIGRÓFILA, CULTIVO FORRAXEIRO.

2.2.- Na Figura A-2 aparece un mapa con cinco accidentes xeográficos. Cite vostede o nome correspondente a cada número.

2.3.- Desenvolva a cuestión: **O relevo da Meseta**. Orientacións para o desenvolvemento: definición de Meseta, caracteres xerais deste accidente (altitude, topografía), breve evolución xeolóxica, compartimentación e accidentes interiores, etc.

2.4.- Comente vostede a Figura B-2. Orientacións para o comentario: tipoloxía da imaxe (sistema de representación, tipo de información), caracteres do reparto dos feitos representados, causas e consecuencias dese reparto, relación con outros elementos demográficos, etc.

XEOGRAFÍA

OPCIÓN A



Figura A-1



Figura A-2

XEOGRAFÍA

OPCIÓN B

HIDROGRAMAS

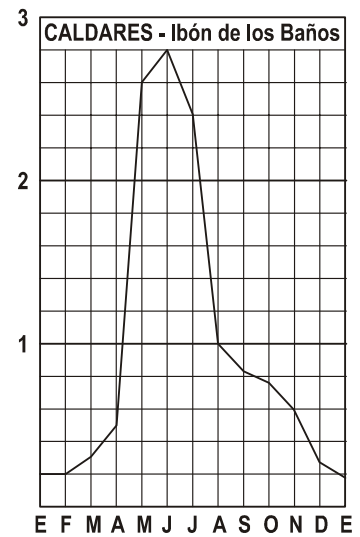
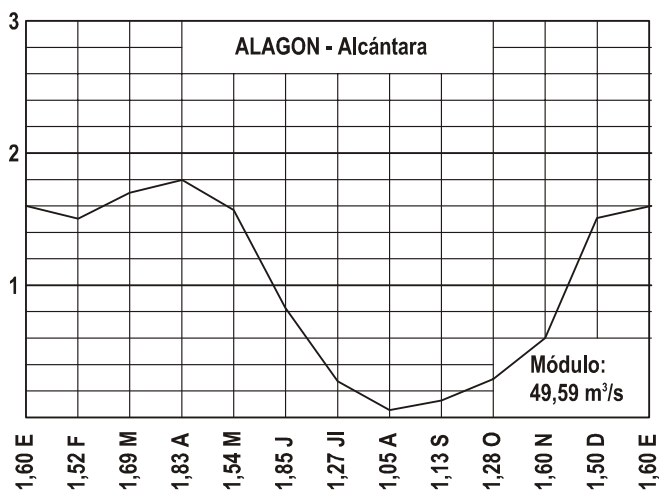
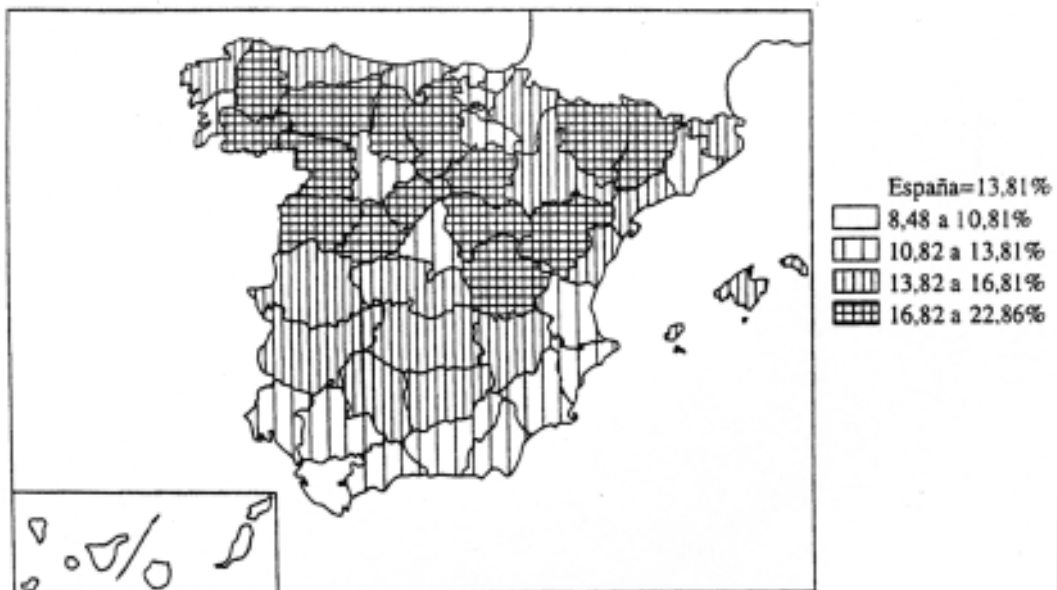


Figura B-1



Proporción de viejos (más de 65 años) en la población (1991).

Figura B-2