

XEOGRAFÍA

VALORACIÓN: A primeira pregunta ten unha puntuación máxima de 2 puntos: requírese unha breve definición en termos xeográficos. A segunda pregunta ten unha puntuación máxima de 2 puntos: solicítase unicamente cita-los elementos. A terceira pregunta ten unha puntuación máxima de 3 puntos: valorarase a organización e a exposición de contidos. A cuarta pregunta ten unha puntuación máxima de 3 puntos: pídesse a correcta interpretación e explicación do documento, analisando as causas e consecuencias dos feitos expostos.

OPCIÓN 1.

1.1.- Defina brevemente: CONDENSACIÓN, VIVENDA SOCIAL, BARBEITO, MUNICIPIO, ROCHA ÍGNEA, ALBEDO, ÉXODO RURAL, MACIZO.

1.2.- Na Figura A-1 aparece un mapa con cinco accidentes xeográficos. Cite vostede o nome correspondente a cada número.

1.3.- Desenvolva a cuestión: Os desequilibrios demográficos en España.

1.4.- Comente vostede a Figura B-1.

OPCIÓN 2.

2.1.- Defina brevemente: CHUVIA ÁCIDA, SECTOR TERCIARIO SUPERIOR, ALTERITA, HÁBITAT CONCENTRADO, GARRIGA, DESALINIZACIÓN, POLÍGONO INDUSTRIAL, TORRENTE.

2.2.- Na Figura A-2 aparece representada a porcentaxe de produción hortofrutícola sobre a agraria total por provincias. Indique vostede cinco nas que aquela sexa superior ó 45%.

2.3.- Desenvolva a cuestión: Tipos de réximes fluviais dos ríos españois.

2.4.- Comente vostede a Figura B-2.

XEOGRAFÍA

OPCIÓN 1



FIGURA A-1

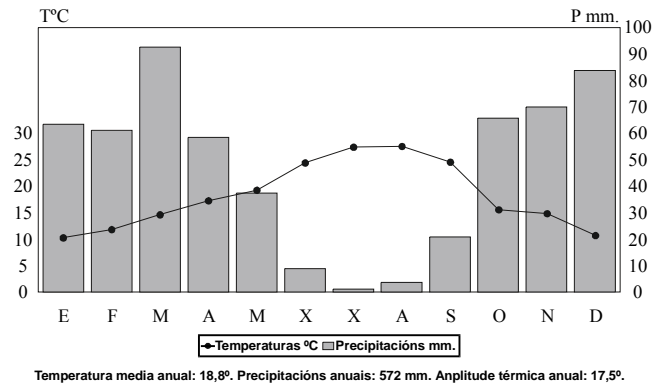
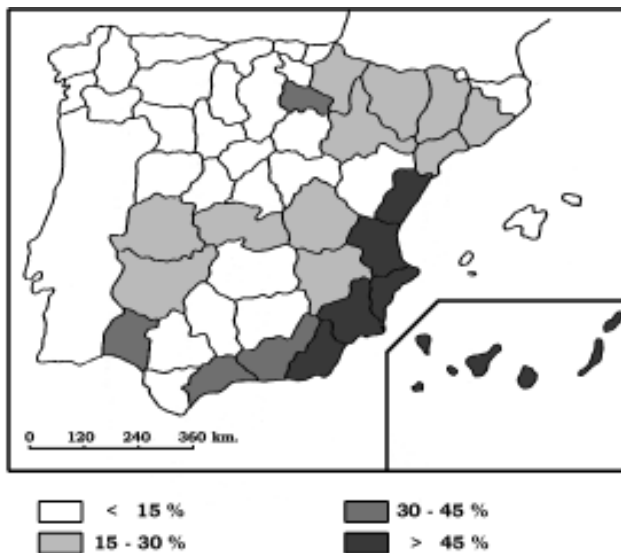


FIGURA B-1

OPCIÓN 2



Producción hortofrutícola sobre la agraria total.

FIGURA A-2

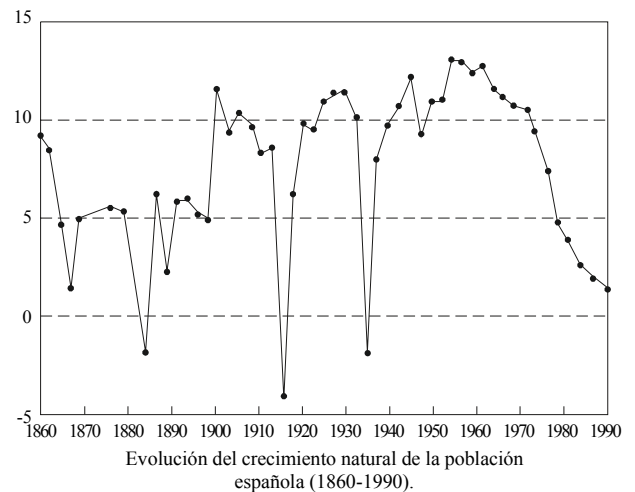


FIGURA B-2

XEOGRAFÍA

VALORACIÓN: A primeira pregunta ten unha puntuación máxima de 2 puntos: requírese unha breve definición en termos xeográficos. A segunda pregunta ten unha puntuación máxima de 2 puntos: solicítase unicamente cita-los elementos. A terceira pregunta ten unha puntuación máxima de 3 puntos: valorarase a organización e a exposición de contidos. A cuarta pregunta ten unha puntuación máxima de 3 puntos: pídesse a correcta interpretación e explicación do documento, analisando as causas e consecuencias dos feitos expostos.

OPCIÓN 1.

1.1.- Defina brevemente: TRANSGRESIÓN MARIÑA, FONTE DE ENERXÍA, TRASVASE, PENICHAIRA, POLO DE DESENVOLVEMENTO, RÉXIME FLUVIAL, PARROQUIA, AMPLITUDE TÉRMICA ANUAL.

1.2.- Na Figura A-1 aparece a trama das provincias españolas. Cite vostede o nome das sinaladas cun número.

1.3.- Desenvolva a cuestión: Rasgos xerais dos rebordos montañosos da Meseta.

1.4.- Comente vostede a Figura B-1.

OPCIÓN 2.

2.1.- Defina brevemente: CLIMA, CONURBACIÓN, BOSQUE CADUCIFOLIO, DIVISORIA DE AUGAS, AGRICULTURA A TEMPO PARCIAL, VALOR ENGADIDO, PÁRAMO, TRASHUMANCIA.

2.2.- Na Figura A-2 aparecen os focos de contaminación atmosférica en España. Cite vostede aquelas Comunidades Autónomas que non presentan focos de contaminación atmosférica e as súas capitais.

2.3.- Desenvolva a cuestión: As transformacións da composición da poboación activa española.

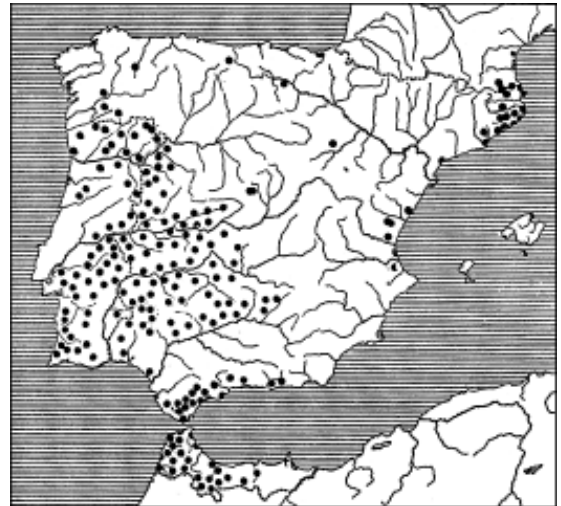
2.4.- Comente vostede a Figura B-2.

XEOGRAFÍA

OPCIÓN 1



FIGURA A-1



Área del alcornoque (*Quercus suber*) en la Península Ibérica (Font Quer. P. 1956)

FIGURA B-1

OPCIÓN 2



FIGURA A-2

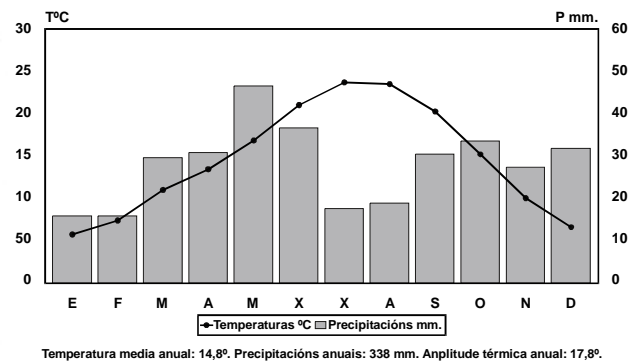


FIGURA B-2